



**MINISTÉRIO PÚBLICO
ESTADO DO RIO GRANDE DO SUL**

**CONCURSO PARA O CARGO DE
AGENTE ADMINISTRATIVO**

03 de novembro de 2013

| NOME DO CANDIDATO | ASSINATURA |
|-------------------|------------|
| | |

- Este caderno contém 60 questões objetivas. Verifique se ele está completo e se não apresenta problemas de impressão. Se for o caso, solicite ao fiscal de sala a substituição deste caderno.
- Preencha **agora** os campos destacados acima. No primeiro, escreva seu nome com letra legível; no segundo, aponha sua assinatura.
- Confira a correção de seus dados pessoais constantes na folha de respostas; em caso de erro, consulte um fiscal de sala.
- Preencha as elipses da folha de respostas com caneta esferográfica preta, sem rasurar.
- Não deixe nenhuma questão sem resposta.
- Não utilize qualquer espécie de material para consulta.
- Abstenha-se de fazer perguntas relacionadas ao conteúdo das questões.
- O candidato **NÃO PODERÁ LEVAR ESTE CADERNO DE QUESTÕES**; o caderno será disponibilizado para consulta no site www.mprs.mp.br.
- Não deixe de assinar a folha de respostas e a lista de presenças.
- Para resolver as 60 questões objetivas deste caderno, você disporá, **no máximo**, de 4 horas.

A partir do dia 08 de novembro de 2013, o gabarito das 60 questões objetivas será publicado no Diário Eletrônico do Ministério Público do Estado do Rio Grande do Sul, e também estará disponível para consulta no site www.mprs.mp.br/concursos.

LÍNGUA PORTUGUESA

Instrução: As questões **1** a **6** estão relacionadas ao texto abaixo.

1. Não se concebe que um ato normativo de
2. qualquer natureza seja redigido de forma
3. obscura, que dificulte ou impossibilite sua
4. compreensão. A transparência do sentido dos
5. atos normativos bem como sua inteligibilidade
6. são requisitos do próprio Estado de direito: é
7. inaceitável que um texto legal não seja
8. entendido pelos _____. A publicidade implica,
9. pois, necessariamente, clareza e concisão.
10. Acrescente-se que a identificação das
11. características específicas da forma oficial de
12. redigir não deve _____ o entendimento de que
13. se proponha a criação – ou se aceite a
14. existência – de uma forma específica de
15. linguagem administrativa, o que coloquialmente
16. e pejorativamente se chama *burocratês*. Este é
17. antes uma _____ do que deve ser a redação
18. oficial, e se caracteriza pelo abuso de
19. expressões e clichês do jargão burocrático e de
20. formas arcaicas de construção de frases.
21. A redação oficial não é, portanto,
22. necessariamente árida e infensa à evolução da
23. língua. É que sua finalidade básica – comunicar
24. com impessoalidade e máxima clareza – impõe
25. certos parâmetros ao uso que se faz da língua,
26. de maneira diversa daquele da literatura, do
27. texto jornalístico, da correspondência particular,
28. entre outros.

Adaptado de: MENDES, G. F.; FORSTER JÚNIOR, N.
Manual de redação da Presidência da República. Disponível em:

<http://www.planalto.gov.br/ccivil_03/manual/manual.htm>.

Acesso em: 3 de maio de 2013.

1. Assinale a alternativa que preenche correta e respectivamente as lacunas tracejadas das linhas 8, 12 e 17.
 - (A) cidadãos – ensejar – distorção
 - (B) cidadãos – enejar – distorsão
 - (C) cidadãos – ensejar – distorção
 - (D) cidadãos – enejar – distorção
 - (E) cidadãos – ensejar – distorsão
2. Assinale a única alternativa que está de acordo com o texto.
 - (A) O ato normativo deve ser redigido sem qualquer recurso linguístico que comprometa sua inteligibilidade.
 - (B) O texto legal é regido pelo princípio da publicidade, isto é, deve ser passível de divulgação em veículo de comunicação popular.
 - (C) A linguagem administrativa deve evitar a pessoalidade, que se caracteriza pelo uso de expressões pomposas para persuadir alguém.

(D) O *burocratês* tem sido usado de forma indiscriminada pelos servidores públicos que se atêm à exigência da norma legal.

(E) Para que um ato legal possa surtir efeito em uma sociedade, é preciso que esteja redigido de forma imparcial.

3. Assinale a alternativa em que se apresenta sinônimos adequados para as palavras **obscura** (l. 3), **arcaicas** (l. 20) e **infensa** (l. 22), no contexto em que elas aparecem, respectivamente.

(A) sombria – antigas – contrária

(B) rebuscada – rudimentares – hostil

(C) rebuscada – anacrônicas – nociva

(D) confusa – antigas – contrária

(E) confusa – anacrônicas – nociva

4. Assinale a alternativa que apresenta uma afirmação correta acerca do uso de sinais de pontuação no texto, desconsiderando o uso de iniciais maiúsculas e minúsculas.

(A) O segmento **bem como sua inteligibilidade** (l. 5) poderia ser isolado por meio de vírgulas, sem acarretar erro gramatical ou alteração do significado.

(B) Os dois-pontos da linha 6 poderiam ser substituídos por ponto e vírgula, sem acarretar erro gramatical ou alteração do significado.

(C) O uso dos travessões nas linhas 13 e 14 justifica-se por destacar reflexão complementar ao que foi dito anteriormente.

(D) A primeira vírgula da linha 21 poderia ser substituída por ponto e vírgula, sem acarretar erro ou alteração do significado.

(E) O uso de travessões nas linhas 23 e 24 indica mudança de interlocutor.

5. Considere as seguintes afirmações sobre palavras do texto.

I. O emprego de inicial maiúscula na palavra **Estado** (l. 6) justifica-se à medida que, no texto, essa palavra designa divisão territorial e política no interior de uma Nação.

II. O sufixo *-mente* da palavra **coloquialmente** (l. 15) poderia ser suprimido, sem acarretar erro gramatical ou alteração do significado.

III. A palavra **burocratês** (l. 16) é um neologismo, criado pelos autores do texto, que significa 'uso abusivo de linguagem retórica na redação de documentos oficiais'.

Quais estão corretas?

(A) Apenas I.

(B) Apenas II.

(C) Apenas III.

(D) Apenas I e II.

(E) I, II e III.

6. Considere as seguintes afirmações sobre palavras do texto.

- () A palavra **inaceitável** (l. 7) contém o mesmo prefixo que a palavra **impessoalidade** (l. 24).
- () As palavras **publicidade** (l. 8) e **entendimento** (l. 12) apresentam sufixos que formam substantivos a partir de verbos.
- () A palavra **características** (l. 11) é acentuada pela mesma regra que preceitua o uso do acento em **árida** (l. 22).
- () A palavra **burocratês** (l.16) recebe acento gráfico pela mesma regra que preceitua a acentuação da palavra **clichês** (l. 19).

A sequência correta de preenchimento dos parênteses, de cima para baixo, é

- (A) V – F – F – F.
- (B) V – F – V – V.
- (C) F – F – V – V.
- (D) V – V – F – F.
- (E) F – F – V – F.

Instrução: As questões 7 a 11 versam sobre redação oficial.

7. Assinale a alternativa que atende plenamente ao uso do padrão culto de linguagem nos atos oficiais.

- (A) Através de um memorando, recomendou-se aos servidores evitar problemas de ambiguidade nos textos oficiais e que estudassem com afinco as normas gramaticais.
- (B) No tempo em que vigia seu estágio probatório, o servidor apresentou pontualidade, assiduidade, ser rápido e ter ambição.
- (C) A peça processual tem mais de quinhentas folhas e várias complicações.
- (D) O chefe da repartição tem obrigação não só de averiguar supostas irregularidades, como também de instaurar inquérito administrativo, se for o caso.
- (E) O novo Promotor de Justiça é profissional de muita experiência, e que tem reputação ilibada.

8. Assinale, entre as alternativas abaixo, aquela cuja redação atende ao critério de clareza.

- (A) Há muitos anos atrás o Promotor de Justiça disse a seu subordinado que ele seria destituído de suas funções.
- (B) O servidor público disse ao colega que ele seria promovido.
- (C) Sendo inassídua, a Senhora Diretora repreendeu a funcionária.

(D) Após o exame das provas fornecidas pelo servidor público, a autoridade constatou sua ingenuidade.

(E) Em seu pronunciamento, Sua Excelência solicitou ao juiz a revisão do caso.

9. Assinale a alternativa que preenche correta e respectivamente as lacunas tracejadas dos enunciados abaixo.

1. Em seu discurso de posse, o Corregedor-Geral concedeu ao colega um _____.
2. O Corregedor-Geral _____ de excelente a intervenção do colega.
3. Os resultados _____ as previsões da Comissão que conduziu o processo eleitoral.
4. A _____ foi encerrada às 17 horas do dia 02 de outubro de 2013.

- (A) à parte – taxou – ratificaram – seção
- (B) aparte – taxou – ratificaram – sessão
- (C) à parte – tachou – retificaram – sessão
- (D) aparte – taxou – retificaram – seção
- (E) à parte – tachou – ratificaram – seção

10. Assinale a alternativa que preenche correta e respectivamente as lacunas dos enunciados abaixo.

1. Se Vossa Excelência desejar, poderemos trazer-_____ uma cópia do processo.
2. Quando Vossa Excelência for ao Ministério Público, leve _____ os documentos.
3. Todos disseram que _____ Excelência, o Senhor Presidente, discursou com propriedade.

- (A) lhe – consigo – Sua
- (B) vos – convosco – Vossa
- (C) lhe – convosco – Vossa
- (D) vos – consigo – Sua
- (E) vos – convosco – Sua

11. Assinale a alternativa que preenche correta e respectivamente as lacunas tracejadas dos enunciados abaixo.

1. _____ trinta minutos que a reunião terminou.
2. _____ haver mais de dez processos na mesa do Corregedor-Geral.
3. _____ estes escritórios.
4. És tu que _____ redigir o documento

- (A) Faz – Deve – Alugam-se – vais
- (B) Fazem – Devem – Aluga-se – vai
- (C) Faz – Devem – Aluga-se – vai
- (D) Fazem – Deve – Aluga-se – vai
- (E) Faz – Devem – Aluga-se – vais

Instrução: As questões **12** a **20** estão relacionadas ao texto abaixo.

1. Não há como fugir dele. O estresse já se
2. incorporou ao cotidiano da maioria das pessoas,
3. em especial nas grandes cidades. E, embora o
4. estresse tenha se tornado nos últimos anos
5. sinônimo de irritação, frustração e problemas a
6. serem resolvidos, não é, por si só,
7. necessariamente ruim. Pelo contrário: se hoje
8. estamos aqui é _____, em momentos de
9. risco à preservação da própria vida (como
10. encontrar um predador pela frente), o cérebro de
11. nossos antepassados deu ordem para que fosse
12. descarregada na corrente sanguínea uma
13. considerável carga de hormônios. Esse processo
14. orgânico, indissociável das consequências
15. emocionais, _____ preparou para duas
16. reações possíveis: lutar ou fugir. Obviamente
17. havia outra possibilidade: ficar e ser
18. inexoravelmente devorado pela fera – mas, claro,
19. os que fizeram essa escolha não viveram para
20. perpetuar seus genes e se tornar nossos
21. ancestrais.

22. O problema dessa história são os resquícios
23. que carregamos desse funcionamento:
24. tendemos a reagir aos agentes estressores –
25. principalmente os do dia a dia, como trânsito,
26. divergências com parceiros ou colegas,
27. pressões profissionais e contas a pagar –
28. como se fossem predadores que ameaçassem
29. nossa vida. Não raro, nos sentimos tão
30. tomados pelos problemas e pela sobrecarga a
31. ponto de adoecer, e nos esquecemos de que
32. nem sempre é preciso suportar passivamente o
33. peso das sobrecargas que povoam nossos dias
34. e nos levam à exaustão mental e emocional.
35. Nesse caso, recorro a um pouco de liberdade
36. poética para uma reinterpretação do que
37. poderia ser entendido por lutar ou fugir.

38. A luta ganha conotação mais ampla quando
39. nos antepomos ao que oprime e buscamos
40. saídas por meio de uma reflexão crítica,
41. inteligente e objetiva a respeito da própria vida.
42. Um exemplo banal: o trânsito provoca cansaço,
43. mau humor, e disso advêm sintomas físicos;
44. _____ dar a essa situação (que, em si,
45. decididamente não podemos alterar) lugar tão
46. importante em nossa vida? É possível alterar o
47. horário de sair de casa, o trajeto que optamos
48. por percorrer, até mesmo a cidade que
49. escolhemos para viver. Principalmente, é
50. possível olhar a fera nos olhos e, se for o caso,
51. fugir, sim, _____ não? Mas de forma
52. consciente, sabendo que ainda há alguma
53. chance de autonomia mesmo nas ocasiões em
54. que parece não haver margem de manobra.

Adaptado de: LEAL, G. *Mente e Cérebro*, n. 37, 2013, p. 3.

12. Assinale a alternativa que preenche correta e respectivamente as lacunas tracejadas das linhas 8, 15, 44 e 51.

- (A) por que – lhes – porque – por que
(B) porque – os – por que – por quê
(C) por que – os – porque – porque
(D) por que – lhes – porque – por quê
(E) porque – os – por que – por que

13. De acordo com o texto, pode-se afirmar corretamente que

- (A) o estresse surgiu de uma reação emocional exagerada de nossos ancestrais frente a situações corriqueiras.
(B) a sobrevivência da espécie humana está associada ao cérebro de nossos antepassados, o qual foi reativo a situações de risco iminente.
(C) os agentes estressores estão sob controle, pois a qualidade de vida da população vem melhorando significativamente.
(D) os sintomas decorrentes do estresse são atenuados sempre que o indivíduo se empenha em mudar seu estilo de vida.
(E) a sensação de exaustão física e mental resultante do estresse está vinculada ao temor do indivíduo de enfrentar novos desafios.

14. Considere as seguintes afirmações sobre regência verbal em segmentos do texto.

- I.** A substituição de **se incorporou** (l. 1-2) por **se integrou** não acarretaria nenhuma outra alteração na frase.
II. A substituição de **deu ordem** (l. 11) por **exigiu** acarretaria uma outra alteração na frase.
III. A substituição de **tendemos** (l. 24) por **temos tendência** não acarretaria nenhuma outra alteração na frase.

Quais estão corretas?

- (A) Apenas I.
(B) Apenas II.
(C) Apenas I e III.
(D) Apenas II e III.
(E) I, II e III.

15. Considere as três possibilidades de reescrita para o trecho abaixo.

[...] **embora o estresse tenha se tornado nos últimos anos sinônimo de irritação, frustração e problemas a serem resolvidos, não é, por si só, necessariamente ruim.** (l. 3-7)

- 1.** O estresse não é por si só ruim, mesmo que nos últimos anos tivesse se transformado necessariamente em sinônimo de irritação, frustração e problemas a resolver.

2. Sendo o estresse sinônimo de irritação, frustração e de problemas a serem necessariamente resolvidos, por si só, não é ruim.

3. Em que pese ter se transformado nos últimos anos em sinônimo de irritação, frustração e de problemas a serem resolvidos, por si só, necessariamente não é ruim.

Quais propostas são reescritas gramaticalmente corretas do trecho acima?

- (A) Apenas 1.
- (B) Apenas 2.
- (C) Apenas 3.
- (D) Apenas 1 e 2.
- (E) 1, 2 e 3.

16. Assinale com **V** (verdadeiro) ou com **F** (falso) as afirmações abaixo, referentes ao emprego de dois pontos no texto.

() Os dois-pontos da linha 7 introduzem uma síntese do que se afirmou na oração anterior.

() Os dois-pontos da linha 16 introduzem esclarecimento de um segmento da oração precedente.

() Os dois-pontos da linha 23 introduzem esclarecimento da oração precedente como um todo.

() Os dois-pontos da linha 42 introduzem discurso indireto livre.

A sequência correta de preenchimento dos parênteses, de cima para baixo, é

- (A) V – F – F – V.
- (B) V – V – V – F.
- (C) F – V – V – F.
- (D) F – F – V – V.
- (E) V – V – F – V.

17. Considere as seguintes afirmações sobre o emprego do sinal de crase no texto.

I. A substituição da palavra **risco** (l. 9) por **ameaça** acarretaria alterações em relação ao uso da crase.

II. A substituição da palavra **exaustão** (l. 34) por **esgotamento** acarretaria alterações em relação ao uso da crase.

III. A substituição do segmento **ao que oprime** (l. 39) por **opressão** criaria as condições necessárias para o uso da crase.

Quais estão corretas?

- (A) Apenas I.
- (B) Apenas II.
- (C) Apenas I e III.
- (D) Apenas II e III.
- (E) I, II e III.

18. Assinale com **V** (verdadeiro) ou com **F** (falso) as afirmações abaixo.

() O segmento **de hormônios** (l. 13) poderia ser substituído por **hormonal**, sem acarretar erro gramatical ou alteração do significado.

() A expressão **dia a dia** (l. 25) poderia ser substituída por **cotidiano**, sem acarretar erro gramatical ou alteração do significado.

() O segmento **a ponto de** (l. 30-31) poderia ser substituído por **chegando até a**, sem acarretar erro gramatical ou alteração do significado.

() O segmento **até mesmo** (l. 48) poderia ser substituído por **ademais**, sem acarretar erro gramatical ou alteração do significado.

A sequência correta de preenchimento dos parênteses, de cima para baixo, é

- (A) V – F – F – F.
- (B) F – V – F – V.
- (C) V – F – F – V.
- (D) V – V – V – F.
- (E) F – F – V – F.

19. Considere as seguintes propostas de substituição de segmentos do texto.

1. Substituir **inexoravelmente** (l. 18) por **de maneira implacável**.

2. Substituir **Não raro** (l. 29) por **De vez em quando**.

3. Substituir **nem sempre** (l. 32) por **ocasionalmente**.

Quais propostas manteriam o significado da respectiva frase do texto?

- (A) Apenas 1.
- (B) Apenas 2.
- (C) Apenas 3.
- (D) Apenas 1 e 2.
- (E) Apenas 2 e 3.

20. Considere as seguintes afirmações sobre substituição de palavras e segmentos do texto.

I. A substituição de **nos esquecemos** (l. 31) por **não nos lembramos** exigiria a supressão da segunda ocorrência da preposição **de** (l. 31)

II. A substituição de **levam** (l. 34) por **conduzem** implicaria alteração adicional na estrutura da frase.

III. A substituição da forma verbal **recorro** (l. 35) por **sirvo-me** exigiria a troca da preposição **a** (l. 35) pela preposição **de**.

Quais estão corretas?

- (A) Apenas I.
- (B) Apenas II.
- (C) Apenas III.
- (D) Apenas II e III.
- (E) I, II e III.

NOÇÕES DE DIREITO E LEGISLAÇÃO

21. Considerando as categorias dos atos administrativos, é correto afirmar que os atestados, certidões e declarações emitidos por órgãos da administração consistem em

- (A) Atos materiais.
- (B) Atos de direito privado.
- (C) Atos enunciativos.
- (D) Atos políticos.
- (E) Atos normativos.

22. Assinale a alternativa que preenche corretamente a lacuna do enunciado abaixo.

O ato administrativo, unilateral e vinculado, pelo qual a administração faculta àquele que preencha os requisitos legais o exercício de uma atividade é denominado _____.

- (A) Aprovação
- (B) Admissão
- (C) Permissão
- (D) Licença
- (E) Autorização

23. O artigo 37, §6º, da Constituição Federal dispõe que “[...] as pessoas jurídicas de direito público e as de direito privado prestadoras de serviços públicos responderão pelos danos que seus agentes, nessa qualidade, causarem a terceiros, assegurando o direito de regresso contra o responsável nos casos de dolo ou culpa”. Isto significa que o direito pátrio consagra a

- (A) Teoria da Irresponsabilidade.
- (B) Teoria da Responsabilidade Objetiva.
- (C) Teoria da Responsabilidade com Culpa.
- (D) Teoria da Culpa Administrativa.
- (E) Teoria da Culpa Administrativa Relativa.

24. Considere as seguintes afirmações sobre o controle dos atos administrativos.

- I.** Controle administrativo é o poder exercido pela Administração Pública de fiscalizar e corrigir sua própria atuação, sob os enfoques da legalidade e do mérito, podendo agir por iniciativa própria ou mediante provocação.
- II.** O controle dos atos administrativos pode ser de legalidade ou de mérito, sendo o primeiro passível de ser exercido pelos três poderes estatais.
- III.** Os administrados poderão provocar o reexame dos atos pela Administração Pública mediante recursos administrativos.
- IV.** O Poder Judiciário exerce controle sobre a legalidade, bem como sobre a moralidade dos atos da Administração em geral.

Quais estão corretas?

- (A) Apenas I e II.
- (B) Apenas III e IV.
- (C) Apenas I, II e III.
- (D) Apenas II, III e IV.
- (E) I, II, III e IV.

25. Considere as seguintes afirmações sobre o Poder de Polícia.

- I.** O Poder de Polícia não é ilimitado, estando sujeito a limites jurídicos de competência, de forma e de finalidade, bem como aos direitos e prerrogativas asseguradas aos indivíduos pelas leis e pela Constituição.
- II.** Enquanto a Polícia Administrativa atua na área do ilícito puramente administrativo, a Polícia Judiciária age quando o ilícito penal é praticado.
- III.** A Polícia Administrativa deve obedecer às regras da necessidade, da proporcionalidade e da eficácia para garantir a efetiva proteção do interesse público.
- IV.** O Poder de Polícia é coercitivo, porém não é autoexecutável, pois depende da autorização judiciária para produção de seus efeitos específicos.

Quais estão corretas?

- (A) Apenas I e II.
- (B) Apenas III e IV.
- (C) Apenas I, II e III.
- (D) Apenas II, III e IV.
- (E) I, II, III e IV.

26. *Inviolabilidade do sigilo bancário* é expressão que costuma ser associada ao Direito Fundamental assegurado pela Constituição Federal, o qual é denominado

- (A) Direito de Igualdade.
- (B) Direito à Privacidade.
- (C) Direito de Liberdade Profissional.
- (D) Direito de Propriedade.
- (E) Direito à Informação.

27. Na Teoria do Federalismo costuma-se dizer que a repartição de poderes autônomos (ou competências) constitui o núcleo do Estado federal. Sobre esse tema, assinale a alternativa correta.

- (A) Compete privativamente à União legislar sobre trânsito e transporte.
- (B) Compete aos Estados explorar, diretamente ou mediante autorização, concessão ou permissão, os portos marítimos, fluviais e lacustres nos respectivos territórios.
- (C) É competência exclusiva dos Municípios a preservação das florestas, da fauna e da flora.
- (D) Compete privativamente à União legislar sobre direito tributário, financeiro, penitenciário, econômico e urbanístico.
- (E) Compete à União, aos Estados e ao Distrito Federal legislar concorrentemente sobre águas, energia, informática, telecomunicações e radiodifusão.

28. Assinale a alternativa **INCORRETA**.

(A) São inadmissíveis, no processo, as provas obtidas por meios ilícitos, mesmo que sejam os únicos elementos para o conhecimento da verdade dos fatos.

(B) O Princípio da Legalidade está na base do Estado Democrático de Direito e sujeita-se à lei que realize o princípio da igualdade e da justiça social.

(C) As garantias constitucionais são também direitos de natureza instrumental, pois destinados a tutelar os denominados *direitos principais*.

(D) A vitaliciedade é garantia constitucional assegurada a todos os servidores públicos aprovados em concurso público.

(E) A garantia do Devido Processo Legal deve ser respeitada nos procedimentos administrativos.

29. O benefício do Auxílio-refeição é concedido aos servidores em atividade do Ministério Público do Estado do Rio Grande do Sul. A respeito desse tipo de benefício é correto afirmar que

(A) o beneficiário pode requerer sua exclusão do benefício, sendo-lhe, porém, vedado postular sua reinclusão ao mesmo.

(B) o servidor faz jus ao Auxílio-refeição mesmo que esteja à disposição de entidade estranha ao Ministério Público.

(C) os reajustes do valor unitário do benefício do Auxílio-refeição deverão ser determinados por provimento do Procurador-Geral de Justiça.

(D) o benefício será incorporado à remuneração do servidor após 5 (cinco) anos de recebimento, para quaisquer efeitos, exceto contribuições trabalhistas ou previdenciárias.

(E) os servidores contribuirão, a título de coparticipação, com o valor de 6% (seis por cento) da remuneração bruta percebida, limitado ao valor do auxílio percebido no mês de referência.

30. Assinale, entre as alternativas abaixo, aquela que constitui atribuição do Conselho Superior do Ministério Público, consoante a Lei Orgânica Estadual do Ministério Público.

(A) Decidir sobre a permanência ou a confirmação na carreira de Promotor de Justiça em estágio probatório.

(B) Votar a lista tríplice para indicação do Corregedor-Geral e seu suplente.

(C) Receber o compromisso e dar posse aos membros do Ministério Público.

(D) Autorizar membro do Ministério Público a ausentar-se do Estado, em objeto de serviço.

(E) Dar posse ao Corregedor-Geral.

31. Assinale a alternativa que preenche corretamente a lacuna do enunciado abaixo.

De acordo com a Lei Complementar nº 10.098/94, _____ constitui forma de provimento de cargo público.

(A) Apresentação

(B) Readaptação

(C) Inversão

(D) Lotação

(E) Concussão

32. Assinale a alternativa correta sobre o Conselho Nacional do Ministério Público, nos termos do Artigo 130-A, da Constituição Federal.

(A) É composto por quatorze membros e presidido pelo Presidente da República, dependendo a escolha de aprovação por maioria absoluta do Senado Federal.

(B) Pode rever os processos disciplinares de membros do Ministério Público da União ou dos Estados julgados há mais de um ano, de ofício ou mediante provocação.

(C) O Conselho escolherá, em votação secreta, um Corregedor nacional, dentre os membros do Ministério Público que o integram, admitida uma recondução.

(D) Incumbe-lhe zelar pela autonomia funcional e administrativa do Ministério Público, podendo expedir atos regulamentares, no âmbito de sua competência.

(E) Compete-lhe receber e conhecer das reclamações contra membros ou órgãos do Ministério Público e da Magistratura da União e dos Estados, inclusive contra seus serviços auxiliares.

33. Assinale a alternativa correta acerca de disposições específicas dos Quadros de Pessoal do Ministério Público.

(A) O servidor integrante de um dos quadros de pessoal da Procuradoria-Geral de Justiça poderá afastar-se para prestar concurso público, sem prejuízo de seus vencimentos, nos termos da Lei Estadual nº 12.262/2005.

(B) Os servidores ativos do Ministério Público, com filhos com idade igual ou inferior a 6 (seis) meses, têm direito ao auxílio-creche, mesmo estando em gozo de licença não remunerada.

(C) Na hipótese de ambos os pais pertencerem ao quadro funcional de servidores do Ministério Público, ambos farão jus ao auxílio-creche.

(D) Os agentes administrativos fazem jus à gratificação mensal de 20% (vinte por cento), a título de auxílio-condução, para deslocarem-se de suas residências até o local de desempenho das atividades próprias de seu cargo.

(E) Não incidem quaisquer vantagens sobre as gratificações por exercício de atividades perigosas ou de auxílio-condução.

34. Considere o enunciado abaixo e as quatro propostas para completá-lo.

São funções institucionais do Ministério Público

- I.** promover, privativamente, a ação penal pública, na forma da lei.
- II.** promover o inquérito civil e a ação civil pública para proteção do meio ambiente e de outros interesses difusos e coletivos.
- III.** defender judicialmente os direitos e interesses das populações indígenas.
- IV.** requisitar diligências investigatórias e a instauração de inquérito policial, indicados os fundamentos jurídicos de suas manifestações processuais.

Quais estão corretas?

- (A) Apenas I e II.
- (B) Apenas II e III.
- (C) Apenas I, III e IV.
- (D) Apenas II, III e IV.
- (E) I, II, III e IV.

35. Considere as seguintes afirmações.

- I.** Na ausência de Promotor de Justiça de carreira, é permitida a nomeação de promotor *ad hoc*.
- II.** Os Promotores de Justiça atuarão nas comarcas do Estado, sendo vedado exercer suas funções em mais de uma comarca.
- III.** A Procuradoria de Fundações é dirigida por um Procurador de Justiça escolhido livremente pelo Procurador-Geral, competindo-lhe a elaboração de pareceres pertinentes a qualquer assunto sobre fundações.

Quais estão corretas?

- (A) Apenas I.
- (B) Apenas II.
- (C) Apenas III.
- (D) Apenas I e II.
- (E) Apenas II e III.

36. Entre as alternativas abaixo, o órgão que **NÃO** pertence à Administração Superior do Ministério Público é denominado

- (A) Colégio de Procuradores de Justiça.
- (B) Coordenadoria-Geral das Procuradorias de Justiça.
- (C) Procuradoria-Geral de Justiça.
- (D) Corregedoria-Geral do Ministério Público.
- (E) Conselho Superior do Ministério Público.

37. Assinale a alternativa correta consoante a Lei nº 8.625/93.

- (A) Os Ministérios Públicos dos Estados formarão lista tríplice, dentre os Procuradores de Justiça, para escolha de seu Procurador-Geral, que será nomeado pelo chefe do Poder Executivo.

(B) Compete ao Procurador-Geral de Justiça encaminhar ao Poder Legislativo os projetos de lei de iniciativa do Poder Executivo.

(C) A destituição do Procurador-Geral de Justiça, por iniciativa da Corregedoria-Geral do Ministério Público, deverá ser precedida de autorização de um terço dos membros da Assembleia Legislativa.

(D) Ao Ministério Público é assegurada autonomia funcional, administrativa e financeira, cabendo-lhe elaborar seus regimentos internos.

(E) A Corregedoria-Geral do Ministério Público tem a incumbência de orientar e fiscalizar os Promotores de Justiça, sendo-lhe, contudo, vedado inspecionar as Procuradorias de Justiça.

38. Assinale a alternativa correta.

(A) O servidor público é obrigado a restituir a ajuda de custo quando, sem justificativa, não se apresentar na nova sede, no prazo de 10 (dez) dias.

(B) Será concedida ajuda de custo ao servidor efetivo do Estado que for nomeado para cargo em comissão, com mudança de domicílio, mesmo para outro órgão ou entidade da União.

(C) O pagamento de diárias destina-se à indenização das despesas de alimentação e hospedagem, e devem preferencialmente ser pagas antes do deslocamento do servidor.

(D) Faz jus à indenização de transporte o servidor que realizar serviços internos com a utilização de meio próprio de locomoção, por força das atribuições do cargo.

(E) A diária será concedida por dia de afastamento, sendo devida em dobro quando o deslocamento não exigir pernoite fora da sede.

39. Assinale a alternativa correta.

(A) O procedimento administrativo para investigar a ocorrência de ato de improbidade será instaurado por representação da pessoa prejudicada à autoridade administrativa competente.

(B) A representação poderá ser rejeitada pela autoridade administrativa, mesmo imotivadamente, se esta não contiver as formalidades estabelecidas na Lei nº 8.429/92.

(C) A rejeição por parte da autoridade administrativa não impede a representação ao Ministério Público, que poderá até mesmo de ofício investigar eventual prática de ato de improbidade administrativa.

(D) A perda da função pública e a suspensão dos direitos políticos se efetivam com a publicação da sentença condenatória por improbidade administrativa.

(E) A aplicação das sanções previstas na Lei nº 8.429/92 dependem da aprovação ou rejeição das contas pelo órgão de controle interno ou pelo Tribunal ou Conselho de Contas.

40. Constitui ato de improbidade administrativa importando enriquecimento ilícito, nos termos da Lei nº 8.429/92,

- (A) perceber vantagem econômica para intermediar a liberação ou aplicação de verba pública de qualquer natureza.
- (B) permitir ou facilitar a aquisição, permuta ou locação de bem ou serviço por preço superior ao de mercado.
- (C) deixar de prestar contas quando esteja obrigado a fazê-lo.
- (D) ordenar ou permitir a realização de despesas não autorizadas em lei ou regulamento.
- (E) realizar operação financeira sem observância das normas legais e regulamentares ou aceitar garantia insuficiente ou inidônea.

INFORMÁTICA

41. Uma senha de acesso a um computador ou a um serviço de rede é usada no processo de verificação da identidade do usuário. Esta senha deve ser pessoal e não pode ser esquecida.

Entre os elementos ou práticas abaixo relacionados, assinale aquele que é o mais adequado para a escolha de uma senha segura de acesso.

- (A) nomes de filmes antigos
- (B) número do telefone celular do usuário, incluindo código de área regional e internacional
- (C) sequências de caracteres próximos no teclado
- (D) seleção dos primeiros caracteres das palavras de uma frase longa
- (E) nome do setor em que o usuário trabalha

42. Observe, abaixo, o resultado obtido na barra de endereços através da utilização da barra de pesquisa do Firefox 21.0 com várias ferramentas de busca, tendo como argumento de busca a expressão **Ministério Público RS**.

| FERRAMENTA | RESULTADO |
|----------------|---|
| Yahoo | br.search.yahoo.com/search?p=Ministério+Público.RS&ei=UTF-8&fr=moz35 |
| Google | http://www.google.com.br/search?q=Ministério+Público+RS&ie=utf-8&Oe=utf-8&aq=t&rls=or.mozilla:pt-BR:official&client=Firefox-a |
| Wikipedia (pt) | pt.wikipedia.org/wiki/Especial:Busca?search=Ministério+Público+RS&sourceid=Mozilla-search |
| Bing | br.bing.com/search?q=Ministério+Público+RS&for=OSDSRC |
| Ask | www.ask.com/web?l=dir&qsrc=0&o=ffx&q=Ministério+Público+RS |

Assinale, entre as ferramentas de busca, aquela que, para evitar eventual espionagem, se vale de criptografia nos argumentos utilizados.

- (A) Yahoo
- (B) Google
- (C) Wikipedia (pt)
- (D) Bing
- (E) Ask

43. Considere as seguintes afirmações sobre a tabela apresentada abaixo, construída no Word 2010.

| Título dos dados colocados | | |
|----------------------------|--------|------|
| Dado X | Dado Y | Soma |
| 5 | 2 | 7 |

- I. Para formatação da primeira linha, não é necessário utilizar o recurso **Mesclar Células** existente na aba **Layout das Ferramentas de Tabela**.
- II. É possível atualizar a coluna de soma de acordo com os dados inseridos na tabela, através da utilização de um campo de fórmula.
- III. As células que contêm números necessitam ter uma formatação de fonte especial para códigos numéricos.

Quais estão corretas?

- (A) Apenas I.
- (B) Apenas II.
- (C) Apenas I e II.
- (D) Apenas I e III.
- (E) Apenas II e III.

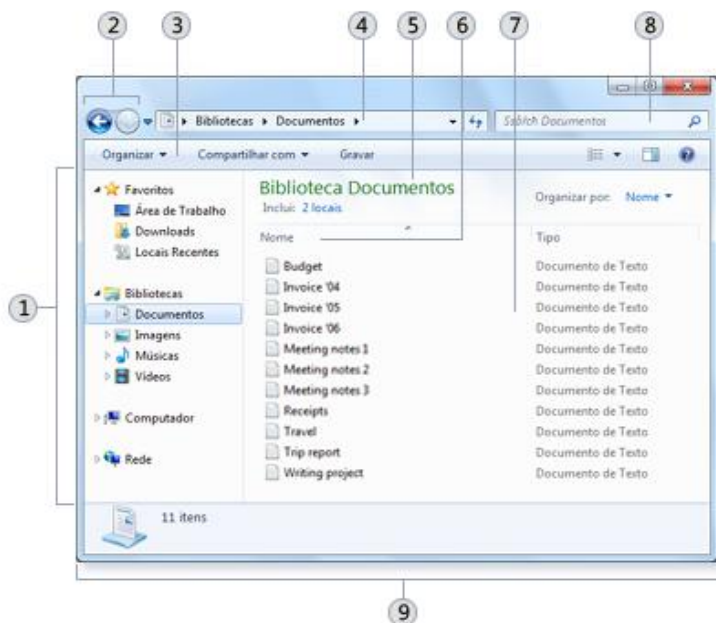
44. Considerando o editor de texto Word 2010, qual das características listadas abaixo é atribuída ao texto ao se aplicar um **Tema** na guia **Layout de Página**?

- (A) Esquema de cores.
- (B) Alinhamento dos parágrafos.
- (C) Conjunto de estilos rápidos.
- (D) Inserção de índice.
- (E) Estilos internos.

45. Assinale a alternativa correta a respeito de cabeçalhos e rodapés no Word 2010.

- (A) A numeração de páginas no rodapé é sempre sequencial em um documento.
- (B) Os cabeçalhos devem ser necessariamente diferentes dos rodapés.
- (C) Quando o cabeçalho da primeira página do documento for diferente das demais, esta não pode conter numeração.
- (D) Os cabeçalhos devem ser os mesmos entre páginas pares e ímpares de um mesmo documento.
- (E) A cada nova seção, é possível colocar um cabeçalho diferente das páginas anteriores.

46. A figura abaixo mostra uma janela do Windows 7 resultante da abertura de uma pasta. Na figura, foram adicionadas indicações numéricas para identificar as diversas partes da janela.



As partes da janela identificadas pelos números 1, 8 e 9 chamam-se, respectivamente,

- (A) barra de ferramentas – caixa de pesquisa – painel de navegação
- (B) lista de pastas – barra de ferramentas – caixa de detalhes
- (C) painel da biblioteca – painel de navegação – lista de pastas
- (D) caixa de pesquisa – painel de detalhes – lista de pastas
- (E) painel de navegação – caixa de pesquisa – painel de detalhes

47. Assinale, entre as alternativas abaixo, aquela que descreve corretamente o procedimento a ser realizado no Windows 7 para a escolha do programa que será utilizado para abrir o arquivo selecionado.

- (A) Pressionar o botão direito do mouse junto com a tecla <ALT> sobre o arquivo selecionado.
- (B) Pressionar o botão direito do mouse sobre o selecionado.
- (C) Pressionar o botão esquerdo do mouse sobre o arquivo selecionado.
- (D) Pressionar o botão esquerdo duas vezes (duplo click) junto com a tecla <ALT> sobre o arquivo selecionado.
- (E) Pressionar o botão central de um mouse que possua três botões sobre o arquivo selecionado.

48. Observe a planilha representada na figura abaixo.

| | A | B | C |
|----|---|-----|---|
| 1 | | 1 | |
| 2 | | 2 | |
| 3 | | 3 | |
| 4 | | 3 | |
| 5 | | XY | |
| 6 | | | |
| 7 | | | |
| 8 | | ABC | |
| 9 | | | |
| 10 | | 4 | |
| 11 | | 5 | |
| 12 | | 6 | |
| 13 | | | |

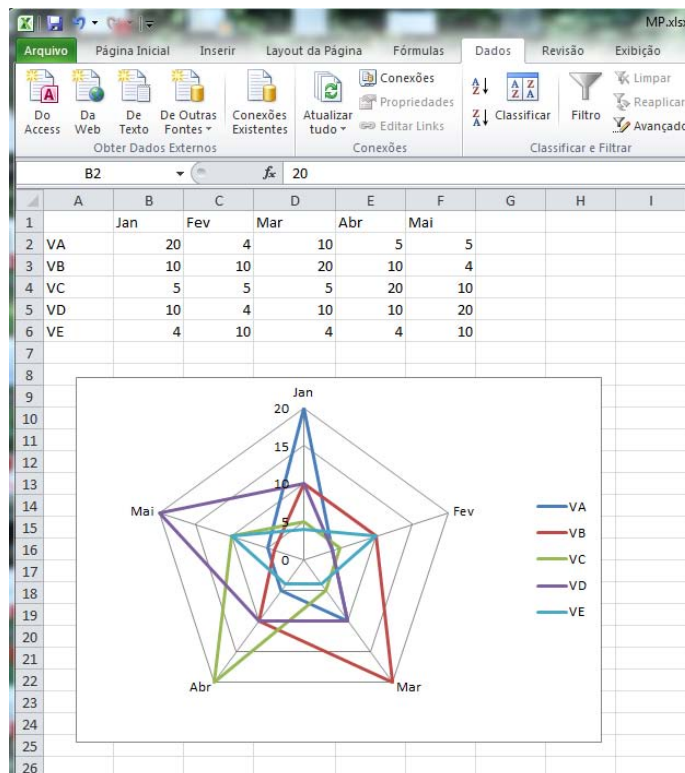
Considere o seguinte preenchimento para a célula D1.

| | |
|----|-----------------------|
| D1 | =CONT.VALORES(A1:A12) |
|----|-----------------------|

Para a célula D1, o valor exibido será

- (A) 4.
- (B) 6.
- (C) 8.
- (D) 12.
- (E) 21.

49. A figura abaixo apresenta um gráfico, gerado no Excel 2010, que exhibe os dados das séries relacionadas a um ponto central.



Esse tipo de gráfico é denominado

- (A) radar.
- (B) dispersão.
- (C) área.
- (D) barras.
- (E) linhas.

50. Observe a figura abaixo.

| | A | B | C | D |
|---|----------|---|------------|---|
| | Valores | | Valores | |
| 1 | Brutos | | Formatados | |
| 2 | | | | |
| 3 | 8,1 | | 08 1/10 | |
| 4 | 8,333333 | | 08 1/3 | |
| 5 | 101,7 | | 101 7/10 | |
| 6 | 98,4 | | 98 2/5 | |
| 7 | | | | |
| 8 | | | | |

Qual é a formatação personalizada de números no Excel 2010 que, quando aplicada na coluna C, nas linhas 3 a 6, permite que os valores brutos da coluna A sejam visualizados como na figura acima?

- (A) ? ??/??
- (B) # #/#
- (C) #0 ??/?
- (D) 0# ??/??
- (E) 0 0/0

MATEMÁTICA E RACIOCÍNIO LÓGICO

51. Reduções sucessivas e acumuladas de 20% e 25% equivalem a uma única redução de

- (A) 40%.
- (B) 45%.
- (C) 50%.
- (D) 55%.
- (E) 60%.

52. Na tabela abaixo, são apresentados os dados da população residente total e da área total do Estado do Rio Grande do Sul, de acordo com informações do Censo Demográfico 2010 do Instituto Brasileiro de Geografia e Estatística.

| | População residente total (habitantes) | Área total (km ²) |
|-------------------|--|-------------------------------|
| Rio Grande do Sul | 10.693.929 | 268.781,9 |

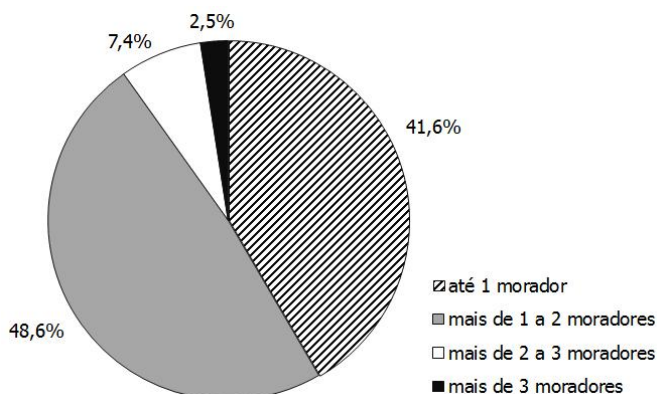
Disponível em: << <http://www.ibge.gov.br>>>.

Acesso em: 30 de abril de 2013.

Segundo esses dados, a densidade demográfica (habitantes/km²) no Estado do Rio Grande do Sul está entre

- (A) 27 e 32.
- (B) 32 e 37.
- (C) 37 e 42.
- (D) 42 e 47.
- (E) 47 e 52.

53. No gráfico abaixo são apresentados os percentuais dos domicílios particulares permanentes com densidade de moradores por dormitório para o Estado do Rio Grande do Sul, de acordo com informações do Censo Demográfico 2010 do Instituto Brasileiro de Geografia e Estatística.



Disponível em: << <http://www.ibge.gov.br> >> .

Acesso em: 10 de maio de 2013.

Se o número de domicílios particulares permanentes com mais de 3 moradores é de 88.698, o número total de domicílios particulares permanentes representados está entre

- (A) 2.800.000 e 3.000.000.
- (B) 3.000.000 e 3.200.000.
- (C) 3.200.000 e 3.500.000.
- (D) 3.500.000 e 3.700.000.
- (E) 3.700.000 e 4.000.000.

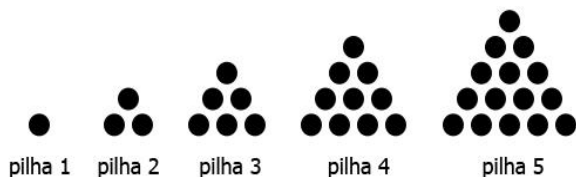
54. Considere as seguintes proposições.

- I.** 10 dividido por 0,5 é igual a 20.
- II.** 1,20 horas é igual a 1 hora e 20 minutos.
- III.** 50% multiplicado por 50% é igual a 25%.

Quais proposições são verdadeiras?

- (A) Apenas I.
- (B) Apenas II.
- (C) Apenas I e III.
- (D) Apenas II e III.
- (E) I, II e III.

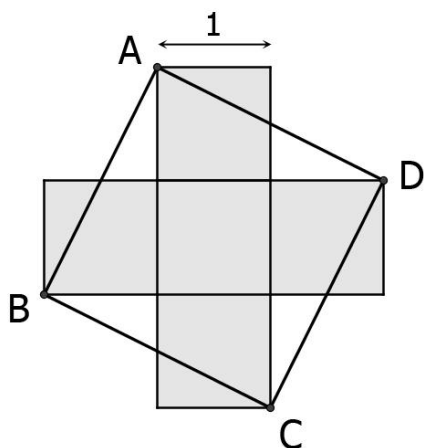
55. Considere a disposição de discos empilhados representada na figura abaixo.



O número de discos existentes na vigésima pilha é

- (A) 150.
- (B) 180.
- (C) 190.
- (D) 210.
- (E) 230.

56. No desenho abaixo, uma cruz é formada por cinco quadrados de lado 1 justapostos.



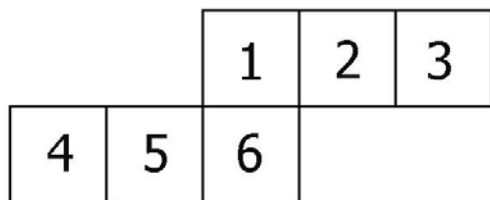
A área do quadrado ABCD é

- (A) 4.
- (B) 5.
- (C) 6.
- (D) 7.
- (E) 8.

57. Um tanque com a forma de um paralelepípedo retangular tem as seguintes medidas internas: base medindo 30 cm x 25 cm e altura de 40 cm. O tanque inicialmente está vazio. Após serem despejados 15 litros de água nesse tanque, a altura que a água atingirá, em cm, será de

- (A) 10.
- (B) 12.
- (C) 15.
- (D) 18.
- (E) 20.

58. A figura abaixo representa uma possível planificação de um cubo, cujas faces estão numeradas de 1 a 6.



A sequência de pares de números que estão em faces opostas nesse cubo é

- (A) (1, 2), (3, 4), (5, 6).
- (B) (1, 3), (2, 5), (4, 6).
- (C) (1, 4), (2, 5), (3, 6).
- (D) (1, 5), (2, 6), (3, 4).
- (E) (1, 6), (2, 5), (3, 4).

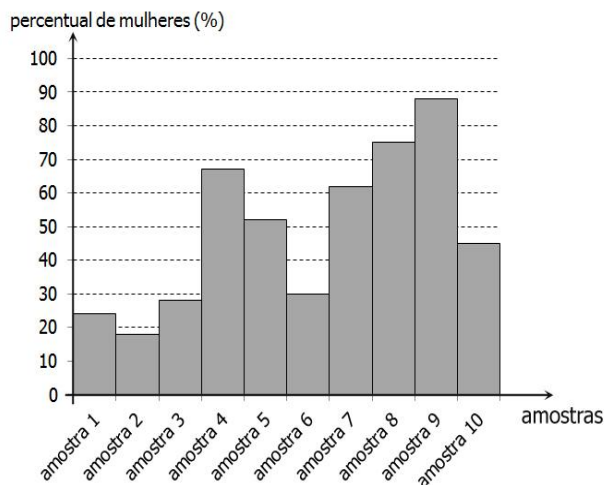
59. No controle de gastos de uma residência, foram registrados os valores mensais referentes a gastos com alimentação, de janeiro a maio de 2013, conforme dados da tabela abaixo.

| MÊS | GASTOS COM ALIMENTAÇÃO (R\$) |
|-----------|------------------------------|
| janeiro | 420 |
| fevereiro | 385 |
| março | ---- |
| abril | 190 |
| maio | 235 |

Com base nesses dados, e sabendo que a média aritmética mensal dos gastos com alimentação, de janeiro a maio de 2013, foi de 318 reais, os gastos com alimentação no mês de março, em reais, foram de

- (A) 320.
- (B) 330.
- (C) 340
- (D) 350.
- (E) 360.

60. Para verificar a distribuição percentual de homens e mulheres que possuem emprego formal em uma determinada cidade, foram coletadas 10 amostras em diferentes bairros. Em cada amostra foi determinado o percentual de mulheres, conforme representam as colunas sombreadas no gráfico abaixo.



O número de amostras em que o percentual de mulheres é maior do que o percentual de homens é

- (A) 5.
- (B) 6.
- (C) 7.
- (D) 8.
- (E) 9.

GABARITO

| | | | | | |
|----|---|----|---------|----|---------|
| 1 | C | 21 | C | 41 | D |
| 2 | A | 22 | D | 42 | ANULADA |
| 3 | D | 23 | B | 43 | C |
| 4 | C | 24 | E | 44 | A |
| 5 | B | 25 | C | 45 | E |
| 6 | B | 26 | B | 46 | E |
| 7 | D | 27 | A | 47 | B |
| 8 | E | 28 | D | 48 | C |
| 9 | B | 29 | C | 49 | A |
| 10 | A | 30 | A | 50 | D |
| 11 | A | 31 | B | 51 | A |
| 12 | E | 32 | D | 52 | C |
| 13 | B | 33 | E | 53 | D |
| 14 | E | 34 | E | 54 | C |
| 15 | C | 35 | C | 55 | D |
| 16 | C | 36 | B | 56 | B |
| 17 | D | 37 | D | 57 | E |
| 18 | D | 38 | ANULADA | 58 | B |
| 19 | A | 39 | ANULADA | 59 | E |
| 20 | C | 40 | A | 60 | A |